

2020-2021学年人教版数学一年级下册2.2十几减8、7、6

选择题

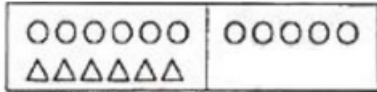
1. 单选题

6 + () < 14, 括号里填 ()。

- A. 8 B. 大于 8 C. 小于 8

2. 单选题

根据下图, 小明列的算式 $11 - 6 = 5$ 表示的是 ()。



- A. \triangle 的个数 B. \circ 的个数 C. \circ 比 \triangle 多的个数

3. 单选题

13 个桃子, 小猴吃了一些, 剩下 8 个。求“小猴吃了几个”的算式是 ()。

- A. $13 - 8$ B. $13 - 5$ C. $13 + 8$

4. 单选题

小猴做了 15 道口算题, 小熊做了 7 道。小熊至少还要做几道才能超过小猴?

- A. 8 道 B. 9 道 C. 10 道

填空题

5. 填空题

\square \square \square \square \square \square \square

\triangle \triangle \triangle \triangle \triangle \triangle \triangle \triangle \triangle \triangle \triangle

\square 比 \triangle 少 _____ 个, \triangle 比 \square 多 _____ 个, \triangle 给 \square _____ 个, \square 和 \triangle 就一样多。

6. 填空题

在横线上填上“+”或“-”。

$16 \text{ } \underline{\hspace{1cm}} \text{ } 6 = 10$

$8 \text{ } \underline{\hspace{1cm}} \text{ } 4 = 12$





$15 \text{ } \underline{\hspace{1cm}} \text{ } 7 = 8$

7. 填空题

在 \square 里填上合适的数

$5 + 2 = 12 - \square = 14 - \square = 16 - \square$

12. 解答题

王老师买来8个  和15支  ，送给同学6支  ，还剩下几支  ？

13. 解答题

一共有16只小鸡，房子里有多少只小鸡？



14. 解答题

还剩下多少只小螃蟹？



$$\square \bigcirc \square = \square \text{ (只)}$$

15. 解答题

看图列式计算。



$$\square \bigcirc \square = \square$$