

2020-2021学年人教版数学一年级下册期末专项复习：01认识图形

选择题

1. 单选题

数一数，下图中一共有几个长方形？



- A. 3个      B. 5个      C. 6个

2. 单选题

在钉子上不能围出的图形是（ ）。

- A. 长方形      B. 正方形      C. 圆形

3. 单选题

下边的数字“3”是由（ ）种图形组成。



- A. 3      B. 4      C. 7

4. 单选题

我们少先队员佩戴的红领巾的形状是（ ）。

- A.       B.       C. 

5. 单选题

数学书的封面是（ ）。

- A. 长方形      B. 正方形      C. 圆

6. 单选题

下列图形中不同类的是（ ）。

- A.       B.       C. 

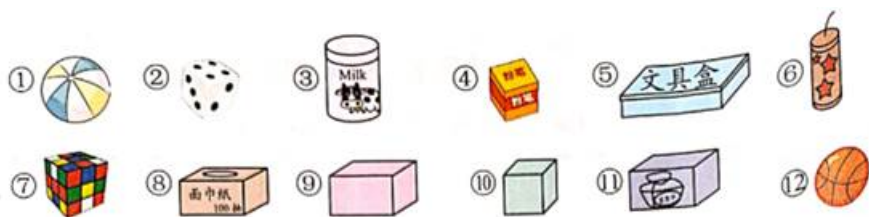
7. 单选题

七巧板是由( )组成的。

- A. 1个圆、2个半圆、1个三角形、1个梯形和2个不规则图形  
和5个三角形      B. 1个平行四边形、1个正方形  
和5个三角形      C. 1个正方形、1个长方形和5个三角形

14. 填空题

分一分，填序号。



长方体：\_\_\_\_\_；

正方体：\_\_\_\_\_；


圆柱：\_\_\_\_\_；

球：\_\_\_\_\_。

我会画，也会圈


15. 作图题

在下面的方格纸上分别画一个长方形、一个正方形和一个三角形。



16. 作图题

把不一样的图形圈起来。



17. 作图题

把能站稳的那一组圈起来。