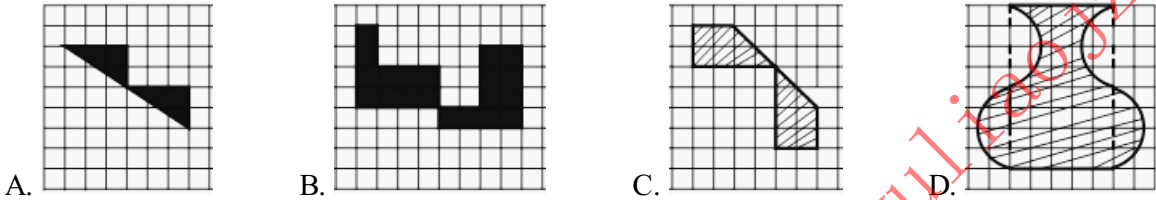


2020-2021学年北师大版数学六年级下学期 3.3图形的运动

选择题

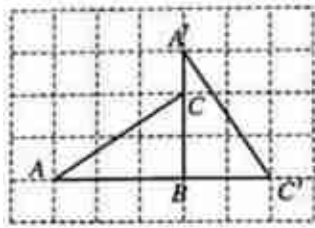
1. 单选题

下列各组图形，只通过平移或旋转，不能形成长方形的是（ ）



2. 单选题

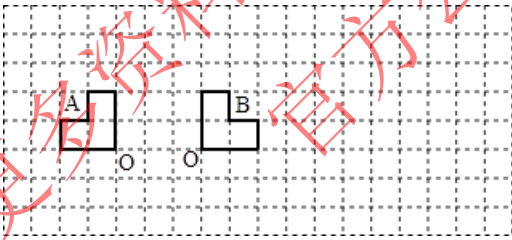
如图，三角形ABC怎样旋转可以得到三角形A'BC'？下面说法正确的是（ ）



- A. 绕B点逆时针旋转 90° B. 绕B点顺时针旋转 90° C. 绕C点顺时针旋转 90° D. 绕C点逆时针旋转 180°

3. 单选题

将图形A（ ），可以得到图形B.



- A. 向右平移3格，再绕O点逆时针旋转 90° B. 向右平移5格，再绕O点顺时针旋转 90°
C. 向右平移3格，再绕O点顺时针旋转 90°

4. 单选题

如图中，图形A变换到图形B，下列描述不正确的是（ ）

