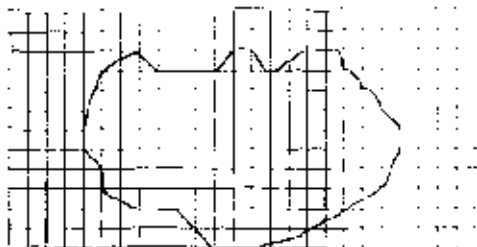


2020-2021学年西师大版五年级上册数学5.4不规则图形的面积

基础作业

1. 综合题

图中每个小方格的面积为 1m^2 ，请你估计这个池塘的面积。



(1) 只看整方格，有_____个，比池塘的实际面积_____了；如果把不完整的都算作整方格，就共有_____个，比实际面积_____了。池塘的面积就在_____至_____平方米之间。


(2) 如果把不完整的方格看作半格，这里有_____个不完整方格，看作_____个整方格。

_____ + _____ = _____ (m^2)

答：池塘的面积大约有_____平方米。

2. 填空题

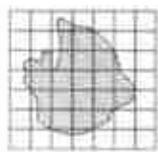
估计下面这块花圃的面积有多大？（每个方格表示1平方米）



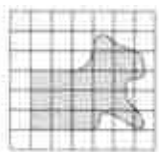
这块花圃的面积大约是_____平方米。

3. 填空题

某公司购买土地（如图）。比一比，在同等价格下购买哪一块便宜些？



图形①



图形②

图①的面积大约比图②的面积_____一些，所以图形_____便宜些。