

2022至2019年北师大版数学一年级上册第六单元《认识图形》单元测在线测验完整版

1. _____



这是一个圆柱体。（）

2. _____

一张复印纸是长方体。（）

3. _____

是圆形的。（）

4. _____

这是。



5. _____

数一数，填一填。



有

组成的。

6. _____

对下列图形进行分类，填写序号：



1 2 3 4 5 6

平面图形：

立体图形：

7. _____

从左边起第 个是



。




8. _____

一个长方体上面和前面的面积之和是209平方厘米，如果它的长、宽、高都是素数，那么它的面积是 平方厘米

9. _____

填一填



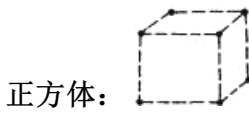
14.

找出对应的物体



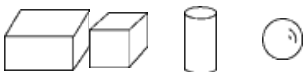
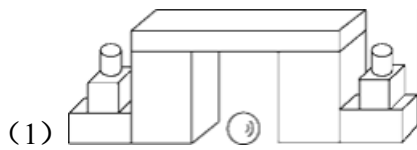
15.

把下面的点用直线连起来。




16.

数一数，填一填。



个 个 个 个

(2) 和 同样多。

(3)  和  一共有 个。