

2022至2019年浙教版数学三年级下册2.12 长方形周长练习卷

1. 选择题

长方形的长是8分米，宽是2分米，周长是（ ）分米。

- A. 10 B. 12 C. 18 D. 20

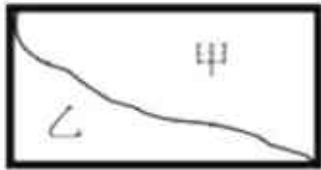
2. 选择题

两个周长相同的长方形，他们的面积是什么关系（ ）

- A. 一样大 B. 不一样大 C. 无法确定

3. 选择题

下图中，甲和乙的周长比，结果正确的是（ ）



- A. 甲比乙长 B. 乙比甲长 C. 甲、乙一样长

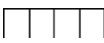


4. 选择题

两个周长是4cm的正方形，拼成一个长方形，这个长方形的周长是（ ）

- A. 6厘米 B. 24厘米 C. 12厘米

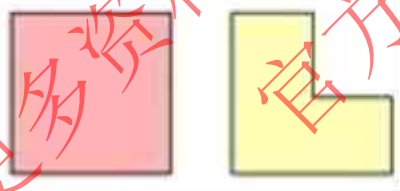
5. 选择题

用4个边长1厘米的正方形摆成下面的图形，周长最短的是()。

- A.  B.  C. 

6. 选择题

比较下面两个图形的描述，正确的是（ ）



- A. 左图的周长>右图的周长
B. 左图的面积<右图的面积
C. 左图的周长=右图的周长
D. 无法比较

7. 判断题

长方形的周长一定比正方形的周长长。（____）

8. 判断题

长方形的周长等于长加宽的和的2倍。（____）

9. 判断题

长方形的周长=长+宽×2。_____。