

全国2022年四年级下册数学单元测试在线做题

1. 选择题

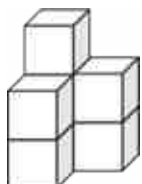
下列图形中，从上面看到的不同的是（ ）



2. 选择题

认真观察下图，数一数。（如果有困难可以动手摆一摆再计数）

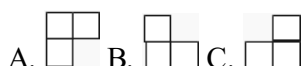
下面的几何体是由（ ）个小正方体搭成的。




A. 5个 B. 6个 C. 7个

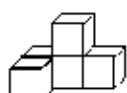
3. 选择题

从上面看到的是（ ）



4. 选择题

用五个同样大小的正方体搭成下面的立体图形，从（ ）看到的形状是 .



A. 正面 B. 右面 C. 上面 D. 左面

5. 选择题

给  添一个小正方体变成 ，从（ ）面看形状不变。

A. 正面 B. 上面 C. 左面

6. 判断题

这两个立体图形从左面看到的图形不同。  ()

7. 判断题

用3个小正方体一共可以搭出5种不同的立体图形。（ ）

8. 判断题

一个正方体，无论从任何一个面看，看到的都是正方形。（ ）

9. 判断题

从正面看到的形状是