

山东省济宁市微山县2021-2022学年一年级上学期数学期末试卷

填一填。(每空1分，共22分)

1. 填空题

看图写数。



2. 填空题


18里面有\_\_\_\_\_个十和\_\_\_\_\_个一。

3. 填空题

一个数的个位上是5，十位上是1，这个数是\_\_\_\_\_。

4. 解答题

按顺序填数。



5. 填空题

一个数，从右起第一位是\_\_\_\_\_位，第二位是\_\_\_\_\_位。

6. 填空题

写出下面的时间。





- (1) 上图中一共有\_\_\_\_\_个小足球运动员。
- (2) 从左边数，排在第3的是\_\_\_\_\_号，11号排在第\_\_\_\_\_。
- (3) 从右边数，第4个是队长，他是\_\_\_\_\_号，把右边的3个队员圈起来\_\_\_\_\_。

- (2) 从左边数，排在第3的是\_\_\_\_\_号，11号排在第\_\_\_\_\_。

- (3) 从右边数，第4个是队长，他是\_\_\_\_\_号，把右边的3个队员圈起来\_\_\_\_\_。

## 12. 解答题

画一画。

- (1) 画O, 和▲同样多。

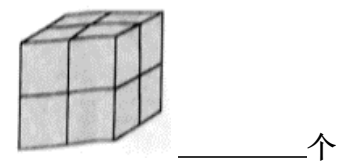
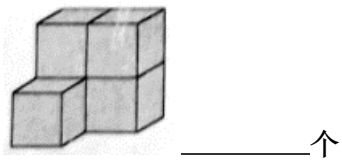


- (2) 画O, 比▲少2个。



### 13. 填空题

数一数。



### 14. 填空题

数一数，填一填。

