

# 山东省烟台市2020-2021学年一年级上册数学期中试卷

## 填空题

### 1. 综合题

比一比，填一填。

○○○○


△△△△△△

□□□□□□□□

- (1) ○比△少\_\_\_\_\_个，△比○多\_\_\_\_\_个。
- (2) △比○多\_\_\_\_\_个，○比□少\_\_\_\_\_个。
- (3) ○与△合起来是\_\_\_\_\_个。

### 2. 解答题

重的画“√”。



### 3. 解答题

最高的画“√”，最矮的画“○”。



### 4. 综合题


找规律填数：

- (1) \_\_\_\_\_、4、6、8、\_\_\_\_\_。
- (2) \_\_\_\_\_、6、3、\_\_\_\_\_。
- (3) ●●☆☆●●☆☆●●☆☆\_\_\_\_\_、\_\_\_\_\_。

### 5. 填空题

与9相邻的两个数是\_\_\_\_\_和\_\_\_\_\_。

2+\_\_\_\_\_ =8

(3) \_\_\_\_\_ 

\_\_\_\_\_ +3=9

(4) \_\_\_\_\_ 

\_\_\_\_\_ +5=10

11. 填空题

想一想，算一算，填一填。

$\square + 3 = 9$        $\square - \triangle = 2$

$\triangle =$ \_\_\_\_\_       $\square =$ \_\_\_\_\_

12. 填空题

家里5口人吃饭，需要\_\_\_\_\_双筷子，共\_\_\_\_\_根。

13. 填空题

写出得数是8的4个算式。

\_\_\_\_\_ + \_\_\_\_\_ =8      \_\_\_\_\_ + \_\_\_\_\_ =8


\_\_\_\_\_ + \_\_\_\_\_ =8      \_\_\_\_\_ + \_\_\_\_\_ =8

解答题

14. 解答题



(1) 一共有\_\_\_\_\_只小动物。

(2) 从左边数，小羊排第\_\_\_\_\_；从右边数，小羊排第\_\_\_\_\_。它左边有\_\_\_\_\_只小动物， 右边有\_\_\_\_\_只小动物。

(3) 把从右数的第三只小动物圈起来。

(4) 把左边的4只小动物圈起来。

15. 解答题