




江苏2022年一年级下学期数学期中考试网上在线做题


1.

数一数，填一填。



 () 个

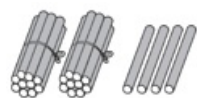
 () 个

 () 个

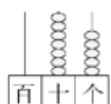
 () 个

2.

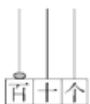
填一填。



() 个十和 () 个一合起来是 () 。



() 里面有 () 个十和 () 个一。



() 里面有 () 个十或 () 个百。

羽毛球拍15元，足球比羽毛球拍贵得多，足球可能（ ）元。

A.5 B.20 C.59

13.

小丽做了15朵红花，小明做了7朵，小明至少还要做（ ）朵才能超过小丽。

A.7 B.8 C.9

14.

用下面两个完全一样的三角形，不能拼成（ ）。



A.三角形 B.长方形 C.正方形

15.

直接写出得数。

$$15-7= \quad 88-80= \quad 47-7= \quad 13-8=$$


$$26-6= \quad 12-9= \quad 20+5= \quad 16-7=$$

$$54-50= \quad 17-8= \quad 3+40= \quad 35-30=$$

$$14-6= \quad 15-6= \quad 4+60= \quad 70-10=$$

16.

操作题，在下面的格子图上画一个正方形和一个三角形。



17.



一箱牛奶有12瓶。

我喝了6瓶，现在还剩多少瓶？



$$\square \bigcirc \square = \square \text{ (瓶)}$$

18.

宁宁和花花一共拔了47个萝卜，宁宁拔了40个，花花拔了多少个？

$$\square \bigcirc \square = \square \text{ (个)}$$

19.



我上午看了40页，下午看了8页。

一共看了多少页？

