

## 江苏省兴化市大垛中心校小学数学2020-2021学年一年级下册期末试卷

看清题目，巧思妙算。（共18分）

### 1. 计算题

直接写出得数。

$4+80=$

$73-3=$

$20+5=$

$12-3=$

$48-40+5=$

$13-5=$

$6+8=$

$17-9=$

$17-10=$

$72+8-6=$

$43-40=$

$24+0=$

$38+5=$

$8+7=$

$37-30+9=$

$56-4=$

$9+46=$

$90-5=$

$40+60=$

$75-40-3=$

### 2. 计算题

用竖式计算。

(1)  $24+59=$

(2)  $6+85=$

(3)  $42-7=$

(4)  $80-25=$

仔细审题，正确填空。（共33分）

### 3. 填空题

一个数的个位上是9，十位上是6，这个数是\_\_\_\_\_，和它相邻的两个数之和是\_\_\_\_\_。

### 4. 填空题

最大的两位数比最小的三位数少\_\_\_\_\_。

### 5. 填空题

写出4个十位上是9的两位数，把他们按从大到小的顺序排列：

\_\_\_\_\_>\_\_\_\_\_>\_\_\_\_\_>\_\_\_\_\_

### 6. 填空题

比80大1的数是\_\_\_\_\_，比80小1的数是\_\_\_\_\_。

### 7. 填空题

○○○○○○○○○○○○

○○○○○○○○

第一行的○移\_\_\_\_\_个到第二行，两行的○就同样多。

### 8. 填空题

17. 单选题

一篮鸡蛋，2个2个地数正好数完，5个5个地数也能正好数完。这篮鸡蛋可能有（ ）个？  
A. 24      B. 35      C. 30




18. 单选题

如果 $54+1\bigcirc$ 的和是七十多， $\bigcirc$ 里应该填的是？  
A. 比6小的数      B. 比6大的数      C. 正好填6


认真观察，细心填表。（7分）

19. 解答题

认真观察，细心填表。

			
原有	46个	( ) 顶	82副
卖出	18个	28顶	( ) 副
还剩	( ) 个	35顶	6副

20. 填空题



长方形	有_____个
正方形	有_____个
三角形	有_____个
圆	有_____个

手脑并用，连连画画。（7分）

21. 连线题