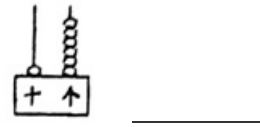
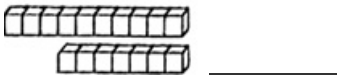



江苏省宿迁市沭阳县2020-2021学年一年级上册数学期末试卷

填空题

1. 填空题

我会写。



2. 综合题

找规律填数。

(1) _____, _____, 12, _____, 14, 15, _____, _____。

(2) 10, 12, _____, _____, _____, _____。

(3) 20, _____, 10, 5, _____。

3. 填空题

1个十和8个一合起来是_____。

4. 填空题

15里面有_____个十和_____个一。

5. 填空题




20里面有_____个十。

6. 填空题

从小到大一个一个地数，与13相邻的数是_____和_____。

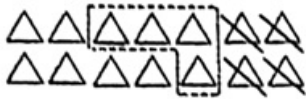
7. 填空题



上面的图形中有_____个 。从左边数，第_____个和第_____个是 。  的右边有_____个图形，左边有_____个图形。

$\square \bigcirc \square = \square$ (本)

13. 计算题
看图写出算式。



$\square \bigcirc \square \bigcirc \square = \square$

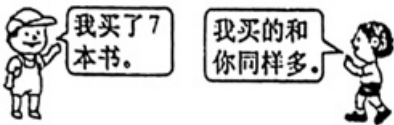
口算和估算

14. 计算题
我会算。

$3+8=$ $5-5=$ $4+6=$ $6+6=$ $6+3+4=$
 $4-0=$ $9+9=$ $10-3=$ $7+4=$ $15-5-9=$

解答题
15. 解答题
耿老师有15本图画书，发给学生10本，还剩多少本？

16. 解答题
两人一共买了多少本书？



17. 解答题
车上已经坐了10人，还有几个空座位？



18. 解答题
奶奶买来18个桃。我吃掉了4个。一共吃了多少个桃？