

河北省昌黎县靖安学区2020-2021学年一年级上学期数学期末试卷

填一填。（共27分）

1. 综合题

按顺序填数。

(1)

12		14		

(2)

20			17	

2. 填空题

15后面第一个数是_____，它是由_____个十和_____个一组成的。

3. 填空题

9个一和1个十合起来是_____，再加上1个一就是_____。

4. 填空题

13中的“1”在_____位上，表示_____个_____；“3”在_____位上，表示_____个_____。

5. 填空题



(1)

 比  多_____。



(2)


 比  少_____。

6. 填空题


下面钟面上的时间表示的对吗？对的在（ ）里打√，错的打×。（共8分）

12. 解答题 _____


下面钟面上的时间表示的对吗？对的在（ ）里打√，错的打×。




11:00



12:00




7 时刚过



5 时刚过

看图列算式并计算。（共12分）

13. 解答题 _____



? 个


○=(个)

14. 解答题 _____



○○=(个)

15. 解答题 _____



10 个