


# 河北省衡水市武邑县2020-2021学年一年级上册数学期中试卷（B）

填空题

1. 填空题

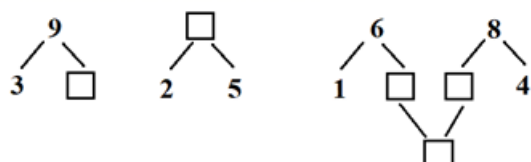
认真观察，看图写数字。



 \_\_\_\_\_,  \_\_\_\_\_,  \_\_\_\_\_,  \_\_\_\_\_,  \_\_\_\_\_。

2. 计算题

在□里填上合适的数。











3. 填空题

和8相邻的两个数是\_\_\_\_\_和\_\_\_\_\_。

4. 填空题

如图，数一数，填一填。



图中，有\_\_\_\_\_个 ，\_\_\_\_\_个 ，\_\_\_\_\_个 ，\_\_\_\_\_个 ， 比  \_\_\_\_\_（填“多”或“少”）， 和  一共有\_\_\_\_\_个。


圈出右手拿花的小朋友。





解答题

11. 解答题

观察下图，填一填。



(1) 一共有\_\_\_\_\_只小动物，再添上\_\_\_\_\_只就是10只。

(2) 从右边数， 小兔排第\_\_\_\_\_，从左边数， 小猫排第\_\_\_\_\_。

(3)  的前面有\_\_\_\_\_只小动物， 大象的后面有\_\_\_\_\_只小动物。

(4) 在从左边数的第3只小动物上面画○，把右边的4只动物圈起来。

12. 解答题

接着摆什么？圈出正确的答案。

(1)         \_\_\_\_\_ (    )

(2)          \_\_\_\_\_ (   )

13. 解答题

荷叶上有9只青蛙，游走了5只，还剩下几只青蛙？

14. 解答题

有一些松果，小松鼠吃了2颗后，还有7颗，原来一共有几颗松果？

15. 解答题

现在车上有多少人？

