

# 河南省周口市项城市实验小学2020-2021学年一年级上学期数学期末试卷

我会填一填。

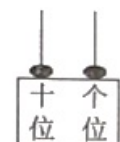
## 1. 填空题



有\_\_\_\_\_个小朋友排队去公园， 排第\_\_\_\_\_， 排第\_\_\_\_\_。

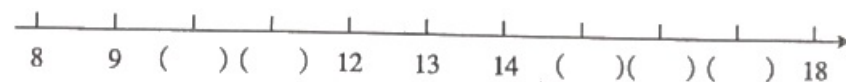
## 2. 填空题

看图填数。



## 3. 解答题


按顺序填空。



## 4. 综合题

- (1) 个位上是7，十位上是1的数是\_\_\_\_\_。
- (2) 15里面有\_\_\_\_\_个十和\_\_\_\_\_个一。

## 5. 解答题



#### 10. 解答题

给第4个苹果涂上颜色，再圈出4个苹果。



#### 11. 解答题

画一画。

(1) 画△和☆同样多。

☆☆☆☆☆☆

(2) 画O比  少。



#### 12. 填空题

分一分。（填序号）



上衣：\_\_\_\_\_

裤子：\_\_\_\_\_

#### 13. 作图题

有16个小朋友每人1支笔，买哪两盒最合适？圈出来。