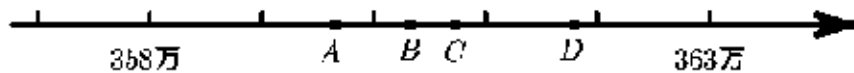


# 浙江省杭州市西湖区行知小学2020-2021学年四年级上册数学期末试卷

填一填

## 1. 填空题

2020年天猫双十一活动中，某品牌的累计销售额为三百六十万七千四百元，这个数写作\_\_\_\_\_，如果用下图中的点来表示它，可能是\_\_\_\_\_，省略万后面的尾数约是\_\_\_\_\_。



## 2. 填空题

一块长方形果园占地面积是5000平方米，\_\_\_\_\_块这样的果园占地面积是1公顷，\_\_\_\_\_块这样的果园占地面积是1平方千米。

## 3. 填空题


如果 $A \times B = 160$ ； $C \div 5D = 5$ ，那么 $2A \times 3B =$ \_\_\_\_\_， $(A \times 7) \times (B \div 7) =$ \_\_\_\_\_， $5C \div D =$ \_\_\_\_\_。

## 4. 填空题

要使 $271 \times \square 3$ 的积是四位数， $\square$ 里最大可以填\_\_\_\_\_； $\square$ 里的数每增加1，积就会增加\_\_\_\_\_。

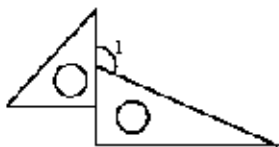
## 5. 填空题

如图，等腰梯形的腰长8厘米，两个完全一样的等腰梯形拼成平行四边形，周长是46厘米，梯形周长为\_\_\_\_\_。



## 6. 综合题

想一想：下图中由一副三角板拼成的角分别是多少度？



(1)

$\angle 1 =$ \_\_\_\_\_