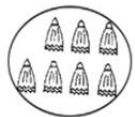


甘肃省金昌市金川区宁远中学2020-2021学年一年级上册数学期中试卷

填空题

1. 填空题

看图写数。



\_\_\_\_\_



\_\_\_\_\_



\_\_\_\_\_



\_\_\_\_\_

2. 填空题

8



\_\_\_\_\_

7



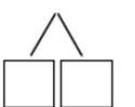
\_\_\_\_\_

5



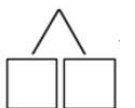
\_\_\_\_\_

9



\_\_\_\_\_

6





\_\_\_\_\_

数一数。



(1) 一共有\_\_\_\_\_只动物。

(2) 从左数， 排第\_\_\_\_\_。从右数， 排第\_\_\_\_\_。

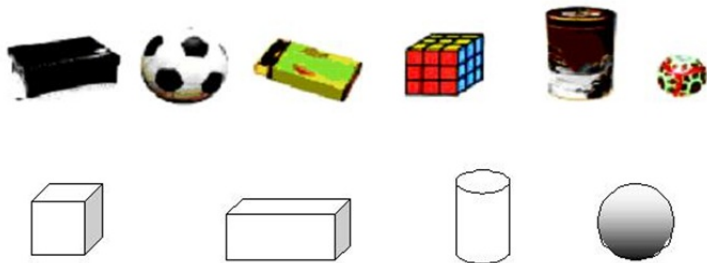
(3) 从左数，给第5只小动物涂上颜色。

(4) 请把右边的5只小动物圈起来。

连线题

10. 连线题

找朋友。（连线）



其他计算

11. 计算题

算一算。

$9-4=$	$7+2=$	$5+0=$	$9-2=$	$5+2=$
$3-0=$	$8-2=$	$6-2=$	$3+4=$	$5-5=$
$6+3=$	$3+5=$	$4+5=$	$9-3=$	$8-4=$

看图列式

12. 解答题

看图写算式。（两道加法算式，两道减法算式）



$\square \bigcirc \square = \square$	$\square \bigcirc \square = \square$
--------------------------------------	--------------------------------------