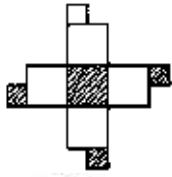


全国七年级数学2022年上册课时练习网络考试试卷

1. 选择题

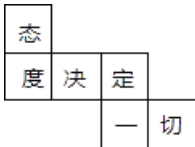
如图是一个正方体的表面展开图，这个正方体可能是（ ）



- A. B. C. D.

2. 选择题

小李同学的座右铭是“态度决定一切”，他将这几个字写在一个正方体纸盒的每个面上，其平面展开图如图所示，那么在该正方体中，和“切”相对的字是（ ）



- A. 态 B. 度 C. 决 D. 定

3. 选择题

小丽制作了一个对面图案均相同的正方体礼品盒（如图所示），则这个正方体礼品盒的平面展开图可能是（ ）



- A. B. C. D.

4. 选择题

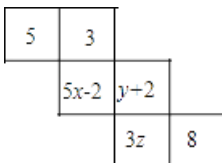
如图是一个长方体包装盒，则它的平面展开图是



- A. B. C. D.

5. 填空题

如图，平面展开图折叠成正方体后，相对面上的两个代数式值相等，则 $x+y=$ _____.



6. 填空题

如图是一个长方体的表面展开图，其中四边形ABCD是正方形，根据图中标注的数据可求得原