

初二下半期空中课堂阶段学习自主测试历史题免费试卷（2021-2022年山西省灵石县）

1. 选择题

为了缅怀先烈、传承英雄精神，我国决定在北京天安门广场建立人民英雄纪念碑。这个决定是在哪次会议上做出的

- A.中共七大 B.中共七届二中全会  
C.政协第一届全体会议 D.第一届全国人民代表大会





2. 选择题

周恩来曾经说过：“新民主主义革命的历史，就是从天安门到天安门。”材料所述在“天安门”发生的重大历史事件分别是

- A.五四运动戊戌变法 B.五四运动新中国成立  
C.戊戌变法新文化运动 D.辛亥革命新文化运动

3. 选择题

臂章是人民军队的一张名片，七十年前，在朝鲜战场上英勇作战、舍生忘死的军队戴的是下列哪种臂章

- A.  B.   
C.  D. 

4. 选择题

以抗美援朝为背景创作的电影主题曲《英雄赞歌》中唱道：“人民战士驱虎豹，舍生忘死保和平。”下列史实与“驱虎豹”相符的是

- A.中国军队五战五捷，把英国侵略军赶回到“三八线”附近  
B.上甘岭战役中我军损失惨重，以战败而告终  
C.人民战士依靠自己的力量，将帝国主义侵略者驱逐出朝鲜  
D.1953年7月，美国在停战协定上签字，中朝人民取得反侵略战争的胜利

5. 选择题

新中国成立后进行了土地政策的调整，到1951年，全国粮食总产量达到1.4亿吨，比1949年增长26.9%，到1952年底，人均粮食由1950年的239.4公斤增长为285.2公斤。这从根本上反映出

- A.农民的生产积极性大大提高 B.生产关系变革促进生产力的提高  
C.农村的面貌发生了彻底改变 D.生产的发展促进了新政权的巩固

6. 选择题

学习历史要史论结合，论从史出。以下史实与推论的对应关系搭配准确的是

选项史实

推论