

吉林省名校调研系列卷2020-2021学年七年级下学期数学第一次月考试卷

选择题（每小题2分，共12分）

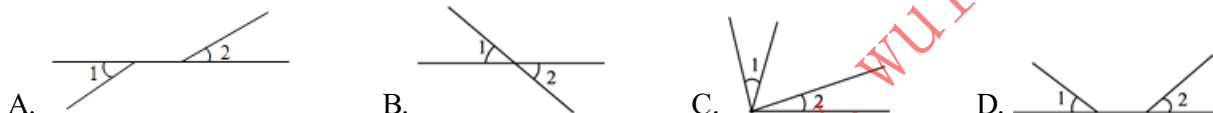
1. 单选题

如图，不是平移设计的是（ ）



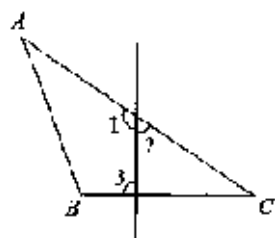
2. 单选题

在下面四个图形中， $\angle 1$ 与 $\angle 2$ 是对顶角的是（ ）。



3. 单选题


如图，下列说法错误的是（ ）



- A. $\angle A$ 与 $\angle B$ 是同旁内角 B. $\angle 1$ 与 $\angle 3$ 是同位角 C. $\angle 2$ 与 $\angle A$ 是同位角 D. $\angle 2$ 与 $\angle 3$ 是内错角

4. 单选题

如图， $AC \perp BC$ ， $AC=4$ ，点D是线段BC上的动点，则A，D两点之间的距离不可能是（ ）



- A. 3.5 B. 4.5 C. 5 D. 5.5

5. 单选题

如图，因为 $AB \perp l$ ， $BC \perp l$ ，B为垂足，所以AB和BC重合，其理由是（ ）

