

山东省德州市庆云县八校2020-2021学年九年级下学期数学4月月考试卷

单选题





1. 单选题

下列计算正确的是 ()

- A. $-(-3)^2=9$ B. $\sqrt[3]{27}=3$ C. $-(-2)^0=1$ D. $|-3|=-3$

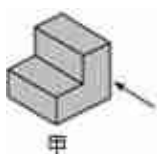
2. 单选题

下列银行标志中，既不是中心对称图形也不是轴对称图形的是 ()

- A.  B.  C.  D. 

3. 单选题

甲是某零件的直观图，则它的主视图为 ()



- A.  B.  C.  D. 

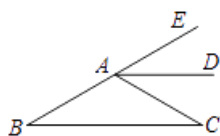
4. 单选题

第六次全国人口普查数据显示，德州市常住人口约为556.82万人，此数用科学记数法表示正确的是 ()

- A. 556.82×10^4 B. 5.5682×10^2 C. 5.5682×10^6 D. 5.5682×10^5

5. 单选题

如图，AD是 $\angle EAC$ 的平分线， $AD \parallel BC$ ， $\angle B=30^\circ$ ，则 $\angle C$ 为 ()



- A. 30° B. 60° C. 80° D. 120°

6. 单选题

不等式组 $\begin{cases} \frac{1}{3}x+1>0 \\ 2-x \geq 0 \end{cases}$ 的解集在数轴上可表示为 ()

- A.  B.  C.  D. 