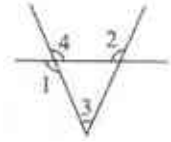


2021-2022学年浙教版七年级下册期中复习专题2 同位角内错角同旁内角

单选题

1. 单选题

如图，下列角中属于同位角的是（ ）



- A. $\angle 2$ 与 $\angle 3$ B. $\angle 1$ 与 $\angle 4$ C. $\angle 1$ 与 $\angle 3$ D. $\angle 2$ 与 $\angle 4$

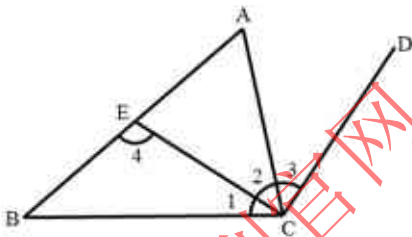
2. 单选题

两条直线被第三条直线所截，若 $\angle 1$ 与 $\angle 2$ 是同位角，且 $\angle 1=70^\circ$ ，则（ ）

- A. $\angle 2=70^\circ$ B. $\angle 2=110^\circ$ C. $\angle 2=70^\circ$ 或 110° D. $\angle 2$ 的度数不能确定

3. 单选题

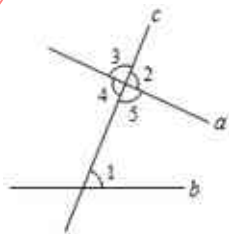
如图，给出下列说法：① $\angle B$ 和 $\angle 1$ 是同位角；② $\angle 1$ 和 $\angle 3$ 是对顶角；③ $\angle 2$ 和 $\angle 4$ 是内错角；④ $\angle A$ 和 $\angle BCD$ 是同旁内角。其中说法正确的有（ ）



- A. 0个 B. 1个 C. 2个 D. 3个

4. 单选题

如图，与 $\angle 1$ 是内错角的是（ ）



- A. $\angle 2$ B. $\angle 3$ C. $\angle 4$ D. $\angle 5$

5. 单选题

如图所示的四个图形中， $\angle 1$ 和 $\angle 2$ 是内错角的是（ ）