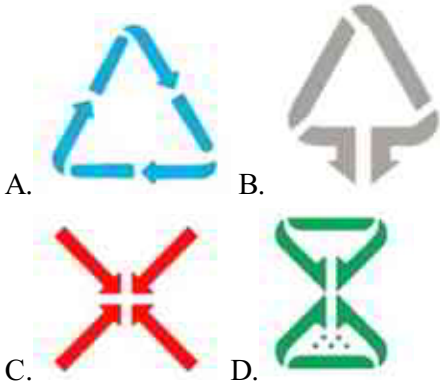


2021-2022年年初三统一练习数学在线考试题免费练习（北京市丰台区）

1. 选择题

《北京市生活垃圾管理条例》对垃圾分类提出更高要求，于2020年5月1日起施行，施行的目的在于加强生活垃圾管理，改善城乡环境，保障人体健康.下列垃圾分类标志，既是轴对称图形又是中心对称图形的是（ ）



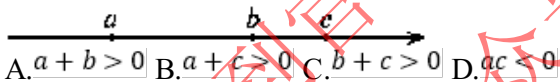
2. 选择题

自2020年1月23日起，我国仅用大概10天就建成了火神山医院，18天建成了雷神山医院，彰显了“中国速度”.雷神山医院和火神山医院总建筑面积约为113800平方米.将113800用科学记数法表示应为（ ）

- A. 1.138×10^5 B. 11.38×10^4 C. 1.138×10^4 D. 0.1138×10^6

3. 选择题

实数 a, b, c 在数轴上的对应点的位置如图所示，若 $|a| = |b|$ ，则下列结论中错误的是（ ）



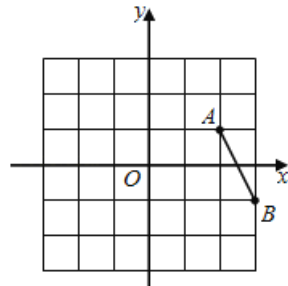
4. 选择题

若正多边形的内角和是 540° ，则该正多边形的一个外角为（ ）

- A. 45° B. 60° C. 72° D. 90°

5. 选择题

如图，在平面直角坐标系中，已知点 $A(2,1)$ ，点 $B(3,-1)$ ，平移线段 AB ，使点 A 落在点 $A_1(-2,2)$ 处，则点 B 的对应点 B_1 的坐标为（ ）



- A. $(-1,-1)$ B. $(1,0)$ C. $(-1,0)$ D. $(3,0)$

6. 选择题