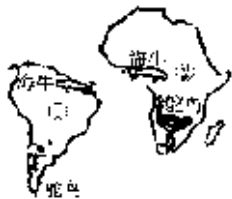


2021-2022年初二上半年期中考试地理试卷（广东省梅州市梅县区径义中学）

1. 选择题

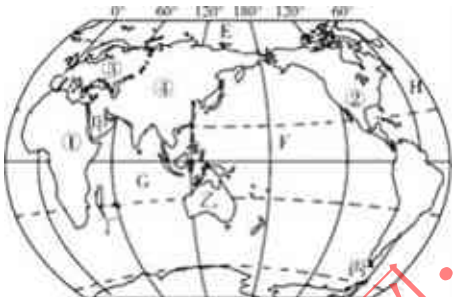
读下图，图中海牛、鸵鸟分布在大西洋的两岸，可能的原因是()



- A. 海牛、鸵鸟具有远涉大洋的能力
- B. 人类活动带到两洲
- C. ①、②两洲原是一块大陆，后漂移分离而成
- D. 无法用大陆漂移假说来说明

2. 选择题

下图是世界海陆分布图。读下图，回答下列各题。



- 【1】几乎全部位于东半球的大洋是()
A. E B. F C. G D. H
- 【2】英国所在的大洲是()
A. ① B. ② C. ③ D. ④
- 【3】②④两大洲的分界线是()
A. 苏伊士运河 B. 巴拿马运河 C. 土耳其海峡 D. 白令海峡
- 【4】图中属于半岛的是()
A. 甲 B. 乙 C. 丙 D. 丁

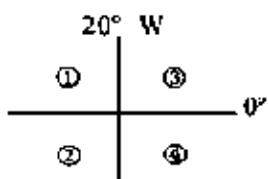
3. 选择题

9月1日开学时，太阳直射点移到地球表面_____附近。()

- A. 北回归线 B. 本初子午线 C. 赤道 D. 南回归线

4. 选择题

图中，①②③④地均位于大西洋两岸的陆地，则②大洲是



- A. 欧洲 B. 南美洲
- C. 非洲 D. 北美洲