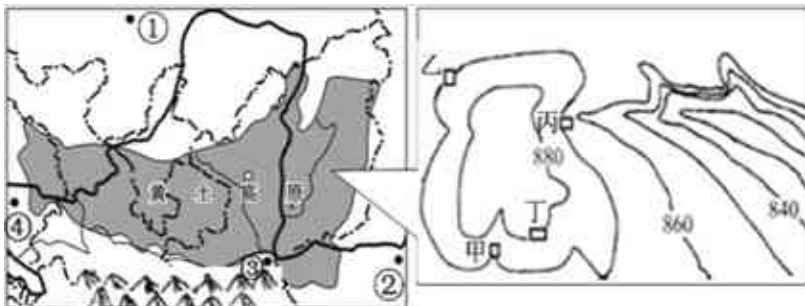


2022年七年级地理上半期课时练习免费试卷完整版

1. 选择题

下图为黄土高原区域简图及高原上某地等高线地形图。据此回答下面问题。



【1】图中①、②、③、④四个黑点所在地形区，按其平均海拔高度从高到低依次排列为（ ）

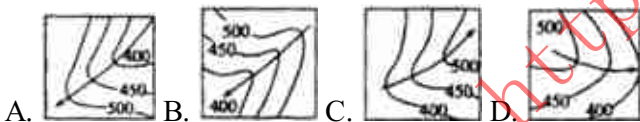
- A. ①④③② B. ④①③② C. ①④②③ D. ④③①②

【2】图中甲、乙、丙、丁四地，最适宜建窑洞的是（ ）

- A. 甲 B. 乙 C. 丙 D. 丁

2. 选择题

下面四幅等高线地形图中，正确表示河流流向的是（ ）



- A. B. C. D.

3. 选择题

读图，完成下面小题。



【1】下列剖面图能反映出MN线地形起伏状况的是（ ）

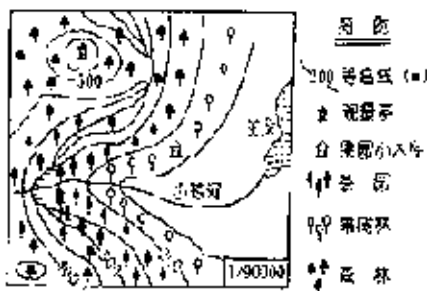


【2】图中甲处气温为 20°C ，则乙处气温最可能是（ ）

- A. 18.8°C B. 19.4°C C. 20.6°C D. 21.2°C

4. 选择题

读某地等高线示意图：



果园小木屋的海拔是（ ）