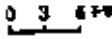


## 2022年湖南省衡阳市中考地理真题含解析

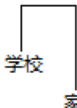



1. \_\_\_\_\_

某地图上，甲、乙两地图上距离是 3cm, 已知两地的实地距离是 90km, 则该图比例尺是（ ）

- A . 1:300000 B .  C . 图上 1 厘米代表实地距离 3 千米 D . 1/3000000

2. \_\_\_\_\_

玲玲从学校到家，先向北走了一段路，再向东走了一段路，然后向南走了一段路才到家，玲玲走的线路应该是图中的（ ）

- A .  B .  C .  D . 

3. \_\_\_\_\_

图中面积最大的洲是（ ）



4. \_\_\_\_\_

图为某地气候资料图，下列有关该气类型的说法，正确的是（ ）