

2022年至2019年七年级下册期末考试生物免费试卷完整版（吉林省长春德惠市）

1. 选择题

呼出气中含有较多的二氧化碳，这些二氧化碳是在哪些部位呼出的气体与吸入的气体相比产生的（ ）

- A. 肺泡 B. 红细胞 C. 组织细胞 D. 组织细胞周围的毛细血管

2. 选择题

关于人体的呼吸，下列叙述正确的是（ ）

- A. 人呼出的气体中，二氧化碳比氧气略多
B. 在患重感冒时，往往用嘴呼吸，这对吸入的空气起到了充分的预热和清洁的作用
C. 北欧人的鼻子明显比生活在赤道附近的人大，这有利于预热冬天寒冷的空气
D. 能使我们发出声音的声带位于咽中

3. 选择题

下列营养物质都能给人体提供能量的是（ ）

- A. 水分、无机盐、淀粉
B. 糖类、脂肪、蛋白质
C. 水分、蛋白质、脂肪
D. 维生素、纤维素、无机盐

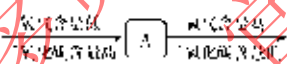
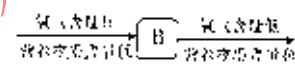

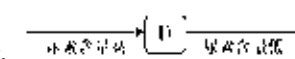
4. 选择题

当肋间外肌和膈肌收缩时，气体经过的途径是（ ）

- A. 外界→咽→食道→肺
B. 肺→气管→咽→外界
C. 肺→气管→鼻腔→外界
D. 外界→鼻腔→气管→肺

5. 选择题

如图中能表示血液流经小肠前后成分变化的是（ ）

- A.  B. 
C.  D. 

6. 选择题

小明缺钙，医生给他开了些钙片，同时还建议他还要服用（ ）

- A. 维生素A
B. 维生素B1
C. 维生素C
D. 维生素D

7. 选择题

在试管内加入2mL食用油，再加入新配制的“X消化液”1mL，充分振荡后，置于37℃的温水中，5min后发现植物油消失了。则“X消化液”成分最可能是（ ）