

2022甘肃九年级上学期人教版初中数学月考试卷

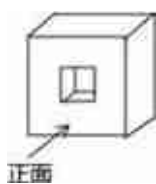
1.

在下列函数表达式中，表示y是x的反比例函数的为（ ）

- A. $x(y-1)=1$ B. $y=\frac{1}{x+1}$ C. $y=\frac{1}{x^2}$ D. $y=\frac{1}{3x}$

2.

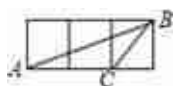
如图所示几何体的左视图是（ ）

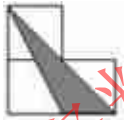





- A.  B.  C.  D. 

3.

如图，小正方形的边长均为1，则图中三角形（阴影部分）与△ABC相似的是（ ）



- A.  B.  C.  D. 

4.

下列四幅图形中，表示两棵圣诞树在同一时刻阳光下的影子的图形可能是（ ）

- A.  B.  C.  D. 

5.