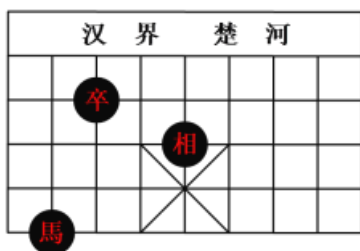


七年级数学课时练习（2022年下册）带参考答案与解析

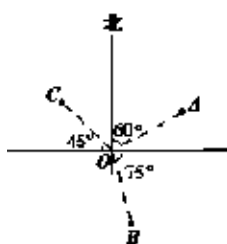
1. 填空题

如图是中国象棋棋盘的一部分，如果我们把“馬”所在的位置记作(2,1)，“卒”所在的位置就是(3,4)，那么“相”所在的位置是_____。



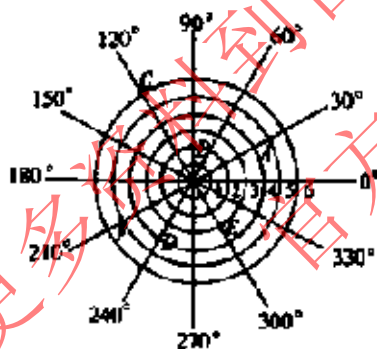
2. 解答题

请说出A、B、C三点，分别在点O的哪个方向上？



3. 选择题

如图，雷达探测器测得六个目标A、B、C、D、E、F出现。按照规定的目标表示方法，目标C、F的位置表示为 $C(6, 120^\circ)$ 、 $F(5, 210^\circ)$ 。按照此方法在表示目标A、B、D、E的位置时，其中表示不正确的是（ ）。



- A. $A(5, 30^\circ)$ B. $B(2, 90^\circ)$
 C. $D(4, 240^\circ)$ D. $E(3, 60^\circ)$

4. 选择题

课间操时，土、肥、圆三个人的位置如图，如果土的位置用(1,1)表示，肥的位置用(3,2)表示，那么圆的位置可以表示成()

