





## 新泰市九年级地理2022年下半年中考模拟带参考答案与解析

1.

“海上生明月，天涯共此时”。北京时间2018年1月31日晚发生了月全食现象，我国大部分地区居民欣赏到了美轮美奂的“蓝月亮”奇观。

据此，回答下列小题。

【1】我国大部分地区居民欣赏到了美轮美奂的“蓝月亮”奇观，说明当时我国大部分地区天气状况是（ ）

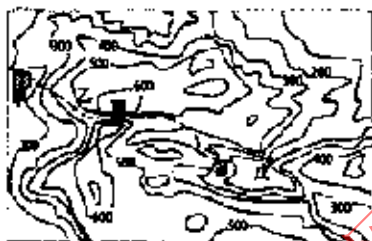
- A.  B.  C.  D. 

【2】该季节下列地理现象正在发生的是（ ）

- A. 东非高原上的动物正大规模越过赤道向北迁徙 B. 南亚地区正处于一年中的热季  
C. 我国南北气温相差不大 D. 南非好望角沿岸的游客正享受阳光沙滩

2.

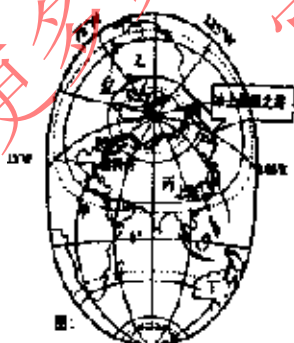
如图为我国某地等高线地形示意图（单位：米）位于甲地的学校组织学生沿图示虚线进行徒步活动，行进过程中（ ）



- A. 在乙地感受飞流直下 B. 在丙地欣赏峡谷风光  
C. 在丁地远眺学校美景 D. 沿途看见成群的牦牛

3.

随着全球气候变化，北冰洋变暖，北极航线日益显露出巨大的航运价值。2017年7月中俄领导人正式提出开展北极航道合作，共同打造“冰上丝绸之路”，读图判断，下列关于图中各点所在区域地理现象描述正确的一项是（ ）



- A. 冰上丝绸之路没有经过的大洋是大西洋  
B. 甲地经过地心在地球表面的对称点一年内有一次阳光直射机会  
C. 世界上最高的山脉是丙所在板块和丁所在板块碰撞挤压形成的  
D. 冰上丝绸之路经过的乙和丙所在大洲的分界线是直布罗陀海峡

4.

读“世界65岁及以上人口比例变化趋势图”，据图可知（ ）