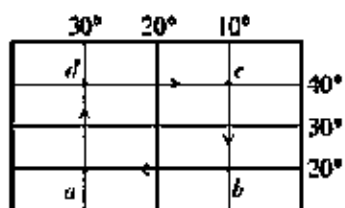


河北省沙河市2021-2022年七年级下学期开学考试地理在线考试题免费练习

1. 选择题

读经纬网图，完成下面小题。



【1】一架负责侦察任务的飞机从a地起飞，匀速前行，先后飞越了d、c、b地后又回到a地，这架侦察机飞越哪一段用时最少（ ）

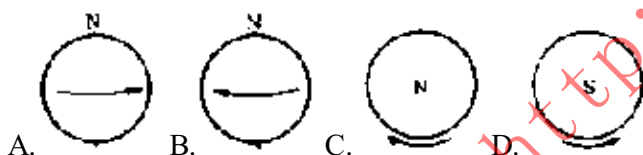
A.ad B.dc C.cb D.ba

【2】图中a、b、c、d都位于（ ）

A.北半球 B.南半球 C.西半球 D.东半球

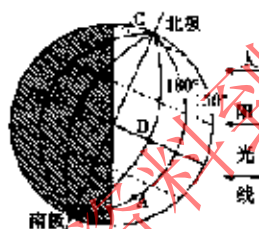
2. 选择题

图中，正确表示地球自转方向的是（ ）



3. 选择题

读图，完成下面小题。



【1】这一天太阳直射（ ）

A.赤道 B.北回归线
C.南回归线 D.北极圈

【2】这一天的日期可能是（ ）

A.3月21日 B.6月22日
C.9月23日 D.12月22日

【3】图中A地所处的季节是（ ）

A.春 B.夏
C.秋 D.冬

4. 选择题

读图，完成下面小题。