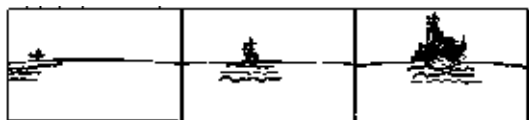


辽宁省辽阳灯塔市2020-2021学年七年级上学期地理期中考试试卷

选择题

1. 单选题

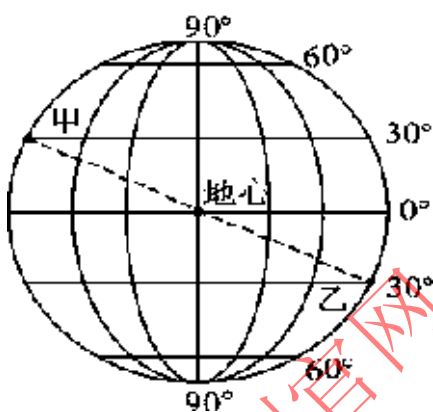
在海边观察远处驶来的轮船,会出现如图所示的现象.现象反映的地理事实是 ()



- A. 地球向东转 B. 海平上升 C. 地球绕太阳公转 D. 地球是个球体

2. 单选题

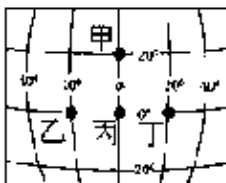
小说《封神演义》中的土行孙擅长遁地之术,某日他从居住地甲(120°E , 30°N)钻入地底始终保持直线前进穿越地心来到地球另一端乙地。据此读图,完成下面小题。



- (2) 土行孙遁地穿行的距离约为 ()
 A. 6378千米 B. 12742千米 C. 40000千米 D. 6371千米
- (3) 甲地位于地球五带中的 ()
 A. 热带 B. 南温带 C. 南寒带 D. 北温带
- (4) 乙地所在的经线是 ()
 A. 120°W B. 120°E C. 60°W D. 60°E

3. 单选题

一游客在旅行日记中写到:我到达了世界上一个神奇的地方,我右手在东半球,左手在西半球,面向北半球,背对南半球。这个神奇的地方就是由图中的()



- A. 甲 B. 乙 C. 丙 D. 丁