

2022年九年级物理上半期在线做题

1. 选择题

以下能源是不可再生能源的是（ ）

- A. 风能 B. 水能
C. 煤 D. 太阳能

2. 选择题

如图所示的实例中，利用大气压工作的是

- A.  活塞式抽水机 B.  潜水艇在航行
C.  用锅炉水位计 D.  U型管

3. 选择题

甲、乙两杯水温度分别为 40°C 、 80°C ，下列说法正确的是（ ）

- A. 只有加热才能使水升温
B. 甲杯中水的内能一定比乙杯中的小
C. 乙杯中水的温度降低，水的内能随之减小
D. 甲杯中的水分子运动一定比乙杯中的剧烈

4. 选择题


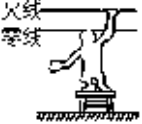
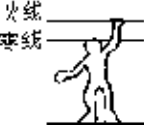
小明在实验室里连接了如图所示的电路，对此电路的认识，正确的是



- A. 小灯泡并联，电压表测电源电压
B. 小灯泡串联，电压表测 L_2 的电压
C. 若灯 L_1 短路，则电压表示数为零
D. 若灯 L_2 短路，则电压表示数为 3V

5. 选择题

电工师傅维修电路有时需要带电操作，如图，以下操作不会发生触电事故的是（ ）

- A.  B. 
C.  D. 