

内蒙古呼伦贝尔市扎兰屯市2021年中考物理三模试卷

单选题





1. 单选题

随着科学技术和社会的发展，超声波已广泛应用于各个领域。下列事例中利用超声波传递信息的是（ ）

- A. 用超声波电动牙刷刷牙 B. 用超声波给金属工件探伤 C. 用超声波清洗眼镜片
D. 用超声波除去人体内的结石

2. 单选题

如图所示的现象中，由光的直线传播形成的是（ ）

- A.  小孔成像 B.  水中筷子 C. 
- D.  水中“倒影”
- 雨后彩虹

3. 单选题

夏天可以通过洒水或放置冰块来降低温度。下列说法正确的是（ ）

- A. 洒水降温是因为水的比热容较大 B. 洒水降温利用了水蒸发吸热 C. 冰块熔化时从周围物体吸收温度
D. 冰块熔化过程中温度和内能都不变

4. 单选题

从物理学角度，对下列自然现象的解读，正确的是（ ）

- A. “阳春三月，鸟语花香”：属于扩散现象，温度高时，分子才会做无规则运动 B. “夏荷轻摇，珠露合聚”：露珠聚在一起，说明分子间存在引力 C. “秋高气爽，落叶飘扬”：分子在不停地做无规则运动
D. “数九严冬，银装素裹”：积雪间存在孔洞，说明分子间存在间隙

5. 单选题

利用如图所示的轻质杠杆提升重物G，支点是O，动力作用在A点，那么使用它（ ）



- A. 一定是省力杠杆 B. 一定是费力杠杆 C. 不可能是等臂杠杆 D. 可能是等臂杠杆

6. 单选题