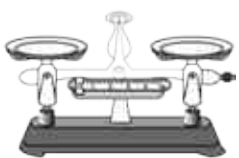





天津市河西区2020-2021学年八年级下学期物理期末考试试卷

单选题

1. 单选题

在如图所示的简单机械中，属于费力杠杆的是（ ）

- A.  天平
- B.  钳子
- C.  赛艇船桨
- D.  独轮车

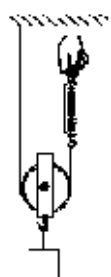
2. 单选题

在如图所示的四个情景中，人对物体做功的是（ ）

- A.  用力推小车但没有推动
- B.  物体在绳子拉力作用下升高
- C.  提着滑板在水平路面前行
- D.  用力搬石头没有搬动

3. 单选题

如图所示，在研究动滑轮特点的实验中，用竖直向上的拉力提起重为1 N的物体，不计动滑轮重、绳重及摩擦，则弹簧测力计的读数为（ ）



- A. 0.25 N      B. 0.5 N      C. 1 N      D. 2 N