

天津市西青区2021年中考物理二模试卷

单选题

1. 单选题

“公共场所，请勿高声喧哗”。这是提醒大家要控制声音的（ ）

- A. 传播 B. 音调 C. 响度 D. 音色





2. 单选题

下列物态变化中，属于凝华的是（ ）

- A. 早春，冰雪消融 B. 初夏，晨雾弥漫 C. 深秋，树枝凝霜 D. 寒冬，湖水结冰

3. 单选题

下图中四个光现象与“潭清疑水浅”现象形成的原理相似的是（ ）

- A.  山“倒影” B.  “日食” C.  “手影”游戏 D.  水中“折筷”

4. 单选题

下列说法中不正确的是（ ）

- A. 拦河坝下宽上窄是根据液体压强的特点进行设计的 B. 飞机的机翼能获得升力，是利用了流速越大的地方压强越大的原理 C. 船闸在工作过程中利用了连通器原理 D. 用吸管将杯中饮料吸入口中是靠大气压把饮料压进嘴里

5. 单选题

图中水平雪地上，穿着雪橇的芳芳总质量为70kg，没有陷入雪地；而穿着运动鞋的小明总质量为50kg，却深陷雪地。下列说法正确的是（ ）



- A. 芳芳对雪地的压力比小明的小 B. 芳芳对雪地的压力和小明的一样 C. 芳芳对雪地单位面积的压力比小明的小 D. 受力面积和压力都不等，无法比较谁对雪地的压强大

6. 单选题

如图所示，一袋大米随输送带一起水平向右匀速运动，下列分析正确的是（ ）