

广西桂林市全州县2020-2021学年九年级上学期物理期中质量检测试卷

单选题

1. 单选题

对人体安全的电压不高于 ( )

- A. 1.5V      B. 36V      C. 220V      D. 380V

2. 单选题

物体在水平面上做匀速直线运动 ( )

- A. 动能增大      B. 势能增大      C. 机械能增大      D. 机械能不变

3. 单选题

做功越快的机械必定是 ( )

- A. 功率越大      B. 做功越多      C. 效率越大      D. 省力越多

4. 单选题

物体的温度升高, 则 ( )

- A. 内能增大      B. 内能减小      C. 内能不变      D. 动能增大

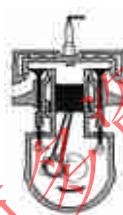
5. 单选题

热量的传递是有方向性的。物体间自发进行热量传递的方向应是

- A. 热量多的物体传给热量少的物体      B. 热量少的物体传给热量多的物体      C. 温度高的物体传给温度低的物体      D. 温度低的物体传给温度高的物体

6. 单选题

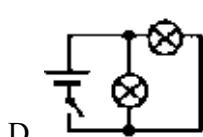
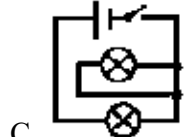
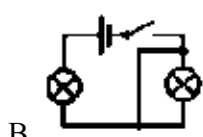
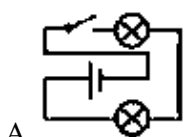
如图所示是汽油机的 ( )



- A. 吸气冲程      B. 压缩冲程      C. 做功冲程      D. 排气冲程

7. 单选题

下列电路中, 两盏电灯并联的是 ( )



8. 单选题

滑动变阻器如图所示接入电路, 则它接入电路的电阻丝应是 ( )