

德州市2022年九年级物理下册中考模拟在线答题

1.

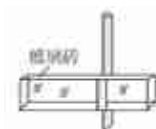
下列声现象的叙述中与图中情景不相符的是 ()



- A. 拨动琴弦发出悠扬的琴声说明声音是由物体振动产生的
- B. 钢尺伸出桌边的长度越长，发出声音的音调越低
- C. 倒车雷达是利用次声波传递信息
- D. 北京动物园的“隔音蛟龙”是在传播过程中减弱噪声

2.

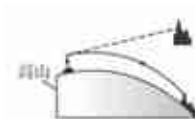
下列光学现象与规律不相符的是



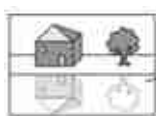
- A. 钢笔“错位”-----光的折射



- B. 手影----光的直线传播



- C. 海市蜃楼-----光的反射



- D. 水中倒影-----光的反射

3.

露珠的形成



- A. 雾凇的形成



- B. 河水成冰



- C. 樟脑丸逐渐变小



- D.