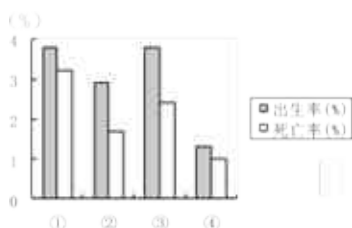


2021-2022年高一学下期期中地理题带答案和解析（江苏省连云港市东海县）

1. 选择题

下图为某国自18世纪80年代至20世纪70年代人口增长变化的四个阶段示意图。读图完成下面小题。



【1】该国可能

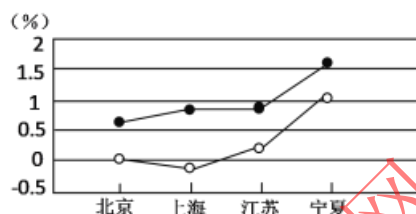
- A. ①阶段人口自然增长率最高 B. ②阶段社会生产力水平最高
C. ③阶段人口老龄化问题严重 D. ④阶段城市人口的比重最高

【2】与图中第④阶段增长模式类似的国家主要分布在

- A. 欧洲 B. 亚洲 C. 非洲 D. 拉丁美洲

2. 选择题

下图为我国四省区某年人口出生率、自然增长率统计图，读图完成下面小题。



【1】图示四省区死亡率最低的是

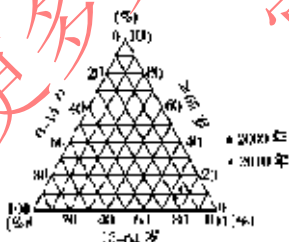
- A. 北京 B. 上海 C. 江苏 D. 宁夏

【2】人口增长模式归根结底取决于

- A. 人口出生率 B. 人口死亡率 C. 社会生产力 D. 人口总数

3. 选择题

下图为江苏省人口年龄结构变化示意图。读图完成下面小题。



【1】图示信息正确的是

- A. 0~14岁人口比例上升 B. 15~64岁人口比例上升
C. 65岁及以上人口比例下降 D. 人口年龄结构趋于年轻

【2】江苏省人口年龄结构变化及其影响，叙述正确的是

- A. 人口增长加快 B. 就业压力减小
C. 老龄化进程加速 D. 男女比例失调

4. 选择题

空巢老人，一般指子女离家后的中老年人。结合下表和下图，完成下面小题。