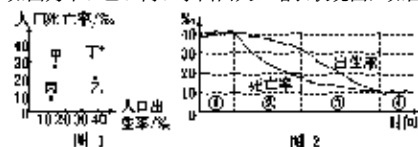


1. 选择题

如图为甲、乙、丙、丁四国人口增长状况图，如图为不同阶段人口发展模式图。读图，回答下列各题。



【1】如图中四个国家人口增长特点与如图人口增长阶段对应正确的是()

- A. 甲—① B. 丁—④
C. 乙—② D. 丙—③

【2】影响丙国人口增长模式的主要原因有()

- ①经济发展水平较高 ②人口受教育程度较低
③人们的生育意愿较低 ④医疗卫生水平较低
A. ①② B. ①③
C. ②④ D. ③④


2. 选择题

中国实施“全面二孩”政策，主要是为了

- A. 缓解人口老龄化的问题 B. 提高城市人口比重
C. 解决独生子女的问题 D. 提高人口质量

3. 选择题

在人口老龄化过程中，许多国家表现出农村人口老龄化程度高于城市的特点，即“城乡倒置”现象。读图，完成下面小题。



中国城乡人口老龄化发展趋势

【1】目前，我国人口老龄化出现“城乡倒置”现象的主要原因是()

- A. 农村青壮年人口大量外迁 B. 城市人口死亡率高于农村
C. 农村环境好，人口寿命长 D. 城市老年人口大量迁入农村

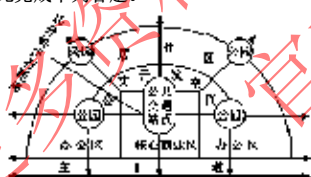
【2】2015年10月，中共十八届中央委员会第五次全体会议公报指出：促进人口均衡发展，坚持计划生育的基本国策，完善人口发展战略，全面实施一对夫妇可生育两个孩子政策，积极开展应对人口老龄化行动。2025年前，实施该政策的影响可能有()

- A. 改变我国人口增长模式 B. 影响劳动人口的职业构成
C. 减少老年人口数量 D. 减轻家庭及社会的养老负担

4. 选择题

新城市主义是20世纪90年代初针对北美城市化问题而形成的一种城市规划和发展的理念。新城市主义主张建立以公共交通为中枢的步行化城区，即以公交站点为中心，以400—800米(5—10分钟步行距离)为半径，建立集工作、商业、文化、教育、高居住密度等功能为一体的城区，以实现各个城市组团紧凑布局的协调发展模式。下图示意新城市主义理念下的步行化城区。

据此完成下列各题。



【1】新城市主义理念下，步行化城区建设的主要目的是为了重点解决城市

- A. 交通拥堵的困境 B. 人口集聚带来的就业困难
C. 基础设施的年久失修 D. 房价昂贵导致的住房紧张

【2】步行化城区对外联系的交通方式，带来的有利影响是

- A. 满足城区居民的多种需求 B. 尊重传统独特的建筑风格
C. 密布商业网点，发展中心商务区 D. 减少环境污染

5. 选择题

下图为某特大城市及其周边地区各类土地的付租能力与该地区地形剖面示意图。据此完成下面小题。



【1】按照距市中心远近付租能力的高低划分，c城市功能分区是

- A. 商业区 B. 住宅区
C. 工业区 D. 行政区

【2】图中b1、b2功能区相同，但级别不同。该功能区在b2地区发展的原因是

- A. 位于工业区附近，工人上下班方便 B. 位于农耕区附近地区，农副产品丰富
C. 位于盛行风上风向，环境优美 D. 位于背风坡地区，日照充足