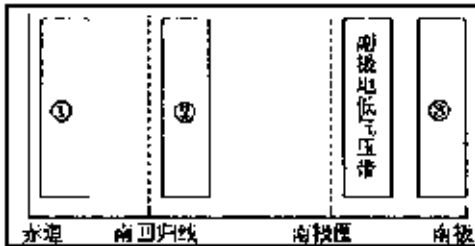


高三下学期人教版(2022)高中地理高考模拟

1.

读某月某条经线上部分气压带、风带和气流的相互关系示意图，回答

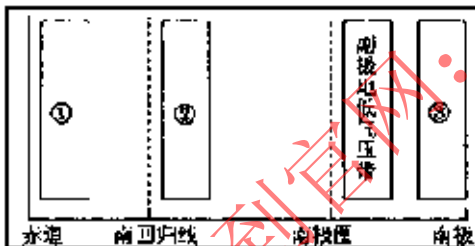


图中②气压带或风带的气流运动方向和性质分别为

- A、下沉、干燥                      B、上升、湿润  
C、由高纬流向低纬、干燥          D、由低纬流向高纬、湿润

2.

读某月某条经线上部分气压带、风带和气流的相互关系示意图，回答

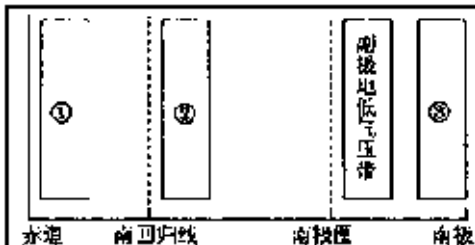


图示月份，下列河流中最可能处于枯水期的是

- A、亚马孙河      B、刚果河      C、湄公河      D、莱茵河

3.

读某月某条经线上部分气压带、风带和气流的相互关系示意图，回答



受①②之间的气压带或风带影响的地区不可能有

- A、东非高原      B、巴西高原      C、撒哈拉沙漠      D、马达加斯加岛

4.