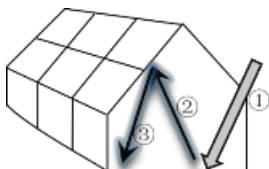


## 福建高二地理2022年前半期期中考试免费试卷完整版

### 1. 选择题

黑龙江大庆宏福现代农业小镇的现代智能温室，运用物联网技术，通过信息传感设备监测各类环境参数，利用嵌入式系统实现对温室的自动控水、控肥、控温等，从而获得植物生长的最佳条件，右图为玻璃温室示意图。

据此完成下列小题。



【1】玻璃温室能够

- A. 增强①—太阳辐射
- B. 减弱②—地面辐射
- C. 加强③—大气逆辐射
- D. 使②难以穿透温室屋顶

【2】智能温室中监测环境参数和自动控水控肥控温，应用的主要地理信息技术分别是

- A. RS GIS B. GIS RS C. RS GPS D. GPS RS

### 2. 选择题

露天冷巷（图a）是指传统聚落中的高墙窄巷，广泛分布于我国岭南、皖南、江浙等地区，是当地人们适应高温环境的建筑智慧结晶。图b为浙江嘉兴西塘王家弄5月下旬实测气温统计图。据此完成下列各题。




图 a

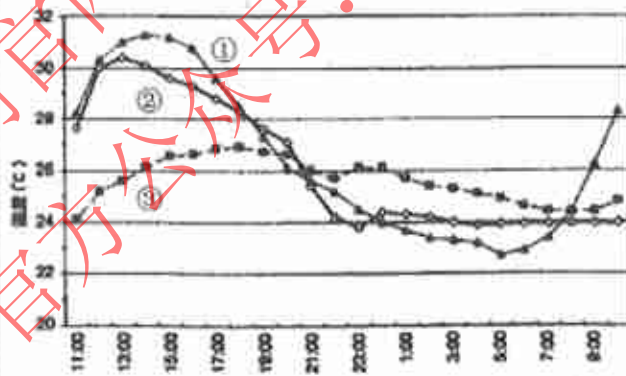


图 b

【1】“高墙窄巷”的设计原理是

- A. 利用高墙阻挡大风，获得保温效果
- B. 利用高墙减少大风天气带来的破坏
- C. 利用窄巷较小的面积，减少热量散失
- D. 利用最小面积获得最大通风降温效果

【2】判定图b中①②③曲线分别代表的是

- A. ①房间温度；②冷巷温度；③院子温度
- B. ①冷巷温度；②房间温度；③院子温度
- C. ①院子温度；②冷巷温度；③房间温度
- D. ①房间温度；②院子温度；③冷巷温度

### 3. 选择题

读青海省及相关景观图（下图），完成下面小题。