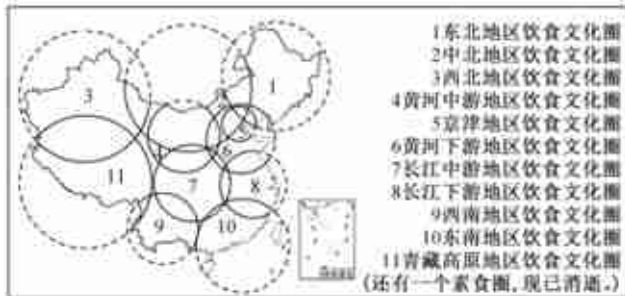


## 西宁市同步练习

### 1. 选择题

读我国区域饮食文化圈分布示意图,完成下面小题。



【1】我国不同的饮食文化圈 ( )

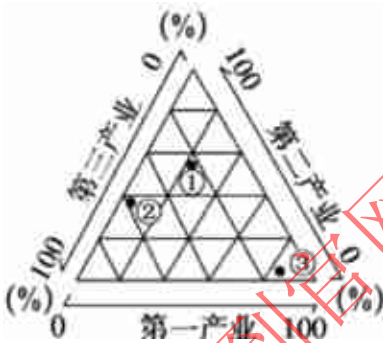
A.属于不同层级区域 B.区域边界是明确的 C.内部特征相对一致 D.相互之间差异较小

【2】图示饮食文化圈形成的基础是 ( )

A.人口分布 B.气候条件 C.地形地势 D.经济水平

### 2. 选择题

读区域发展不同时期的产业结构特征示意图,完成下面小题。



【1】图中①②③各点分别代表区域发展不同时期的产业结构特征,从区域发展的过程来看,其正确的顺序是 ( )

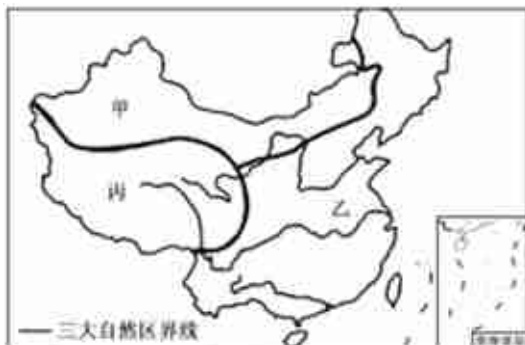
A.①—②—③ B.③—②—① C.③—①—② D.②—①—③

【2】人类的衣食住行极大地依赖于地理环境的阶段是 ( )

A.农业社会阶段 B.工业社会阶段 C.后工业化阶段 D.采集和狩猎阶段

### 3. 选择题

读我国三大自然区示意图,完成下面小题。



【1】决定甲、乙、丙三大自然区区域差异的基本因素是 ( )

A.土壤和植被 B.水文和植被 C.地形和气候 D.地形和水文

【2】与甲自然区相比,丙自然区 ( )