

陕西省礼泉县2022届高三上学期政治11月摸底考试试卷

选择题（本大题共25小题，每小题2分，计50分）

1. 单选题

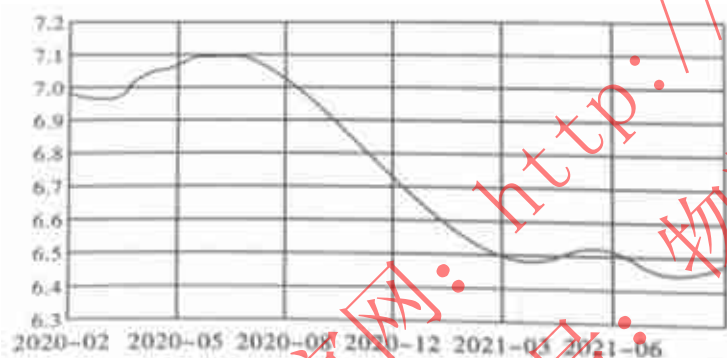
2021年8月23日24时，国内油价“第16次”调整开启，这是今年“第3次”下调，预测油价累计下跌幅度为245元/吨。不考虑其他因素，油价下调产生的影响可能有（ ）

- ①石油输出国组织增产，保证石油供给 ②燃油汽车消费需求增加
③运输企业生产成本降低，利润增加 ④新能源汽车的需求增加

- A. ①③ B. ①④ C. ②③ D. ②④

2. 单选题

2020年2月至2021年8月美元对人民币汇率走势图（单位：元）



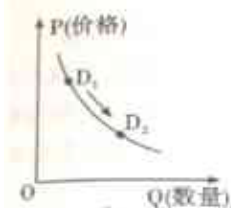
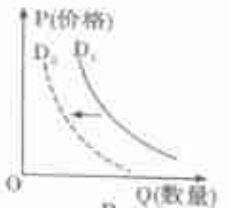
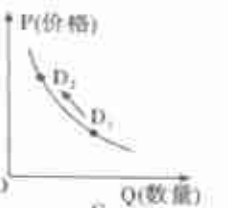
不考虑其他因素，如果图中变化趋势得以延续，以下选项合理的是（ ）

- ①海外代购和海淘的成本将降低 ②中国对美国外贸进口订单将增加
③中国商品在美国市场竞争力提升 ④人民币国际化进程步伐将会放缓

- A. ①② B. ②③ C. ①④ D. ③④

3. 单选题

据海口海关统计，截至2021年7月底，海南自贸港“零关税”政策下进口货值达26.9亿元，为企业减免税款达4.62亿元，受惠产品涉及船舶游艇、汽车、飞机、生产材料和生产设备。不考虑其他因素，“零关税”政策对我国国产汽车的需求变动的影响是（ ）

- A.  B.  C.  D.